

**CONCURSO PÚBLICO**

**EDUARDO  
DA HORA**



**Gabaritando INFORMÁTICA**

***CORREIO 2010***

QUESTÕES DE INFORMÁTICA PARA O IBGE.

PROFº. EDUARDO DA HORA.

1) Qual a tecla de atalho para abrir o botão iniciar no Windows Vista?

- a) Ctrl + W
- b) Win + W
- c) Ctrl + I
- d) Win + I
- e) Ctrl + Esc

2) O Windows tem um programa que melhora o desempenho da sua máquina e reorganiza os espaços no seu Hard Disk conhecido como Desfragmentador de disco. Qual o caminho para executá-lo?

- a) Iniciar-Programas- Desfragmentador de disco
- b) Meu Computador- Disco local C: - Desfragmentador de disco
- c) Iniciar – Todos os Programas – Acessórios - Desfragmentador de disco
- d) Iniciar – Todos os Programas - acessórios - Ferramentas do sistema - Desfragmentador de disco
- e) Windows Explorer - Programas- Desfragmentador de disco

3) Existem vários tipos de memórias no computador, cada uma tem a sua função. Uma delas é utilizada como “reserva” para caso a memória volátil precise, seja utilizada. Que memória é essa?

- a) Memória RAM
- b) Memória ROM
- c) Memória CACHE
- d) L1 e L2
- e) Memória Virtual

4) O barramento criado especificamente para o uso de placas de vídeo 3D de alto desempenho é conhecido como:

- a) PCI.
- b) AGP.
- c) USB.
- d) IDE/ATA.
- e) SATA.

5) Analise as seguintes afirmações sobre a memória cache e marque as corretas:

- I) Os dados armazenados na memória cache são aqueles acessados com maior frequência.
  - II) É um dispositivo especial de memória com acesso extremamente rápido, localizado entre o processador e a memória principal ou na própria CPU.
  - III) Ajuda a aumentar o desempenho do computador.
  - IV) L1 e L2 são exemplos de memória cache.
- Escolha a alternativa correta.

- a) I e III.
- b) II e IV.
- c) II, III e IV.
- d) I, II e IV.
- e) I, II, III e IV.


6) Estando em um documento editado no *Microsoft Word*, versão em língua portuguesa, para exibir a caixa de diálogo *imprimir* é suficiente para o usuário digitar a tecla de atalho:

- a) SHIFT + P.
- b) SHIFT + ALT + P.
- c) CTRL + SHIFT + P.
- d) CTRL + P.
- e) ALT + P.

7) Com relação ao *Microsoft Excel*, versão em língua portuguesa, o resultado de se aplicar a função =ARRED(MÉDIA(6;7;4);2) em uma dada célula, é:

- a) 5.
- b) 5,6.
- c) 5,67.
- d) 5,68.
- e) 5,66.

8) Qual será o valor CONTIDO na célula B1=

2,67890 após 3 cliques no ícone .

- a) 2,67890
- b) 2,67890000
- c) 2,67
- d) 2,66
- e) 2,68

9) A lixeira fornece uma segurança quando arquivos ou pastas são excluídos no Windows XP. Porém, alguns itens não são armazenados na lixeira e não podem ser restaurados. São exemplos de itens

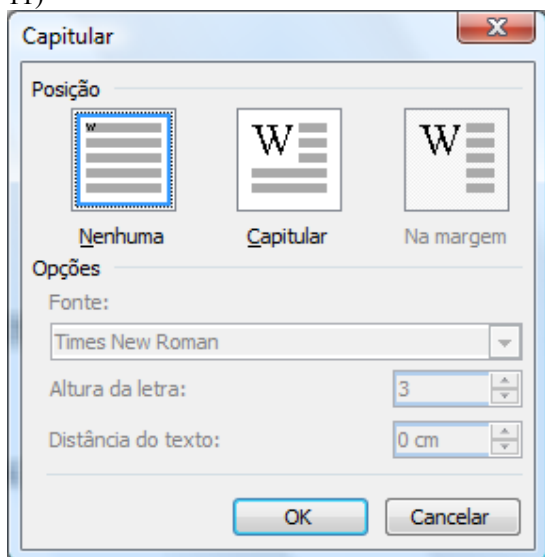
que são armazenados na lixeira quando de sua exclusão:

- a) Itens excluídos de mídia removível.
- b) Itens excluídos de locais de rede.
- c) Itens maiores que a capacidade de armazenamento da lixeira.
- d) Itens excluídos através do atalho SHIFT + DEL.
- e) Nenhuma das opções anteriores.

10 ) O Google é mundialmente conhecido pelos usuários de Internet porque:

- (A) é um provedor de Internet;
- (B) é um navegador bastante utilizado;
- (C) oferece e-mails grátis;
- (D) oferece serviços de busca;
- (E) oferece conexões seguras aos seus usuários.

11)



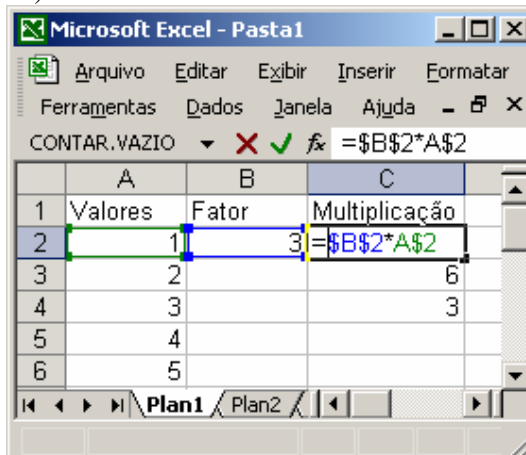
A figura acima representa o clique do mouse no comando Capitular que foi dado no menu:

- a) Editar
- b) Inserir
- c) Formatar
- d) Ferramentas
- e) Capitular

12) O recurso que permite o envio das novidades de sites e blogs aos interessados, sem que esses interessados tenham que acessar os sites constantemente em busca dessas novidades, é conhecido como:

- (A) LINKSYS;
- (B) XSI;
- (C) WWW;
- (D) HTTP;
- (E) RSS.

13)



A afirmativa correta sobre tipos de referência no Microsoft Excel XP instalação padrão em português é:


- A) a tecla F9 é utilizada para colar células copiadas
- B) a tecla F4 é utilizada para alternar entre referências relativas, absolutas e mistas
- C) o "\$" presente na célula C2 altera o formato da célula para moeda
- D) caso a célula C2 fosse copiada para C3, seu resultado seria igual a 6, considerando que a planilha estivesse com a opção de cálculo automático selecionada
- E) considerando que a opção de cálculo manual estivesse selecionada, para que seja exibido o valor 9 na célula C4 como resultado da multiplicação da célula B2 por A4, a sequência de comandos correta seria: selecionar a célula C2, pressionar a tecla Ctrl juntamente com a tecla C, selecionar a célula C4, clicar com o botão direito e clicar na opção Colar do menu de contexto, e pressionar a tecla F9

14) Após escrever um texto que será analisado por seu chefe, Pedro precisou colocar uma borda no seu trabalho feito no Word 2003, sendo assim clicou em "bordas e sombreamento" que se encontra na barra de menus em:

- a) Editar
- b) Exibir
- c) Inserir
- d) Formatar
- e) Ferramentas

15) Utilizando a tecla de atalho \_\_\_\_\_ move-se um texto, em seguida utiliza-se a tecla de atalho \_\_\_\_\_ para colar o texto no local desejável, mas antes de fechar o programa é preciso salvar e para isso utiliza-se a tecla de atalho \_\_\_\_\_, após salvar percebe-se um erro no documento e utiliza-se a tecla \_\_\_\_\_ para desfazer a operação. Sendo assim quais as teclas de atalho que devem ser digitadas:

- a) Ctrl + X, Ctrl + B, Ctrl + V, Ctrl + D
- b) Ctrl + X, Ctrl + V, Ctrl + B, Ctrl + D
- c) Ctrl + V, Ctrl + B, Ctrl + X, Ctrl + Z
- d) Ctrl + X, Ctrl + V, Ctrl + B, Ctrl + Z
- e) Ctrl + B, Ctrl + X, Ctrl + V, Ctrl + Z




16) No Excel 2003 tem-se o seguinte ícone:  Qual sua função?

- a) Aumentar a largura da célula e justificar
- b) Mesclar e centralizar
- c) Aumentar a largura da célula e centralizar
- d) Mesclar e justificar
- e) Mesclar células

17) Três amigas foram às compras em um shopping perto de onde moram. Abaixo temos as compras feitas por elas.

	A	B	C	D
1		Roberta	Luciana	Verônica
2	Blusa	R\$ 25,90	R\$ 19,50	R\$ 35,70
3	Calça Jeans	R\$ 59,90	R\$ 89,50	R\$ 79,90
4	Sapato	R\$ 37,50	R\$ 78,40	R\$ 54,30
5	Bolsa	R\$ 108,60	R\$ 146,30	R\$ 128,60
6	Cinto	R\$ 19,80	R\$ 35,90	R\$ 28,10
7	Total	?	?	?

Qual seria a forma mais rápida para saber o total das compras de cada uma:

- a) Selecionar B2:D6 e apertar em ENTER
- b) Selecionar a linha 7 e clicar no botão 
- c) Selecionar B2:D6 e apertar o botão 
- d) Selecionar todas as células e apertar ENTER
- e) Selecionar B2:B6 e clicar  três vezes.

18) Qual endereço IP é válido:




- a) 192.168.0.255
- b) 200.100.00.1
- c) 256.256.0.0
- d) 255.100.0.1
- e) 0.122.255.0

19) Uma determinada rede é protegida por um servidor proxy cujo endereço IP é 192.168.0.10 e a porta é 4321.

Esses números devem ser configurados no Internet Explorer através do menu *Ferramentas*, clicando em *Opções de Internet*. Na caixa de diálogo que surge, a guia **X** deve ser selecionada, clicando em seguida no botão *Configurações da LAN*. Após isto, aparecerá a janela abaixo. Qual das opções a seguir substitui corretamente o nome da guia **X** no texto acima?



- A) conexões
- B) segurança
- C) conteúdo
- D) avançado
- E) privacidade

20) Qual os nomes dos ícones, , , , 

- a) Pincel, Hiperlink, Gráfico e Localizar
- b) Pincel, Web, Gráfico e Localizar
- c) Pincel, Conexão, Localizar
- d) Pincel, Hiperlink, Desenho e Pesquisar
- e) Pincel, Hiperlink, Desenho e Localizar

21) Juvêncio recebeu um e-mail reportando que seu CPF estava cadastrado no Sistema de Proteção ao Crédito.

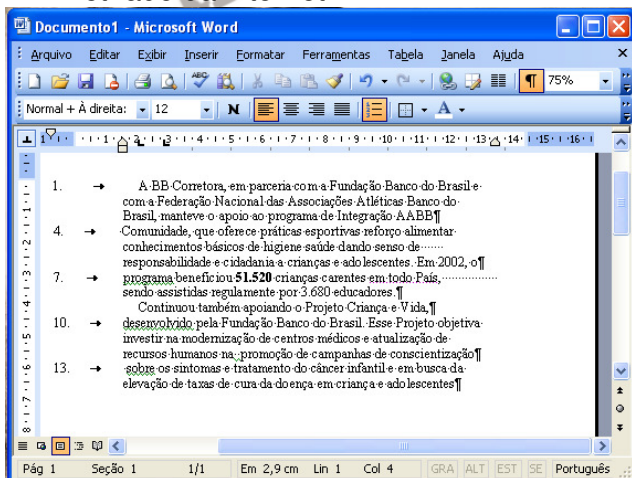
Mesmo não havendo possibilidade disso acontecer, pois paga suas contas em dia ele, inadvertidamente, clicou no link que havia no corpo do e-mail. O link remetia para o seguinte endereço:

<http://www.vocecaiu.com/invadi.exe>.

A partir desse momento, o programa executado (invadi.exe) se instalou na máquina e capturou sua senha de banco. Esse é um procedimento característico de infecção por:

- A) vírus de boot
- B) vírus de macro
- C) worm
- D) trojan
- E) spam

22) A figura abaixo mostra uma janela do aplicativo Word XP, na qual se encontra uma adaptação de parte de um relatório retirado da internet.



Com referência à figura mostrada no texto I e ao Windows XP, julgue os itens subsequentes.

a) Os dois parágrafos mostrados na figura serão alinhados às margens direita e esquerda caso seja realizado o seguinte procedimento: clicar sobre qualquer palavra do primeiro parágrafo; pressionar

e manter pressionada a tecla “shift” ; clicar sobre qualquer palavra do segundo parágrafo; liberar a tecla “shift” ; clicar o

botão

b) Para se procurar as ocorrências da palavra “Banco” em todo o documento, é suficiente aplicar um clique duplo sobre essa palavra na primeira linha do texto e, a seguir, utilizar as funcionalidades da opção Localizar, encontrada no menu “editar”.

c) A inserção, no documento que está sendo editado, de numeração das páginas ou de quebra de coluna pode ser realizada por meio do menu “inserir”.

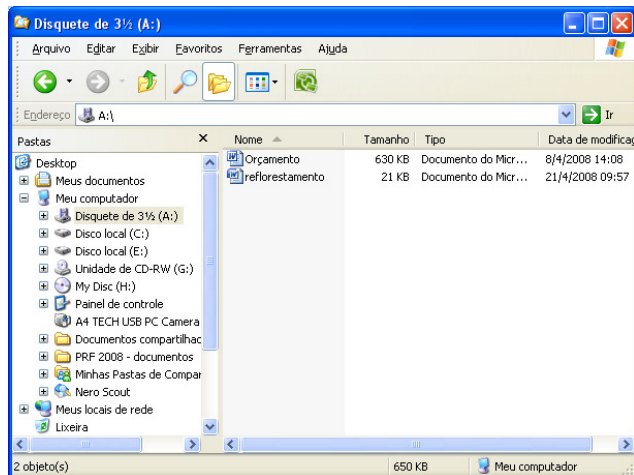
d) Por meio do menu “ajuda” , é possível verificar se o documento em edição possui erros de grafia e de gramática.

e) Caso seja selecionado todo o segundo parágrafo mostrado e, a seguir, sejam pressionadas sequencialmente as teclas “ctrl”, “alt”, e “N”, o referido parágrafo terá o estilo de fonte alterado para negrito.

Quantas estão certas

- a)1
- b)2
- c)3
- d)4
- e)5

23)



A figura acima mostra uma janela do **Windows XP** que está sendo executado em um computador cujo sistema operacional é o **Windows XP**. Com

relação a essa figura e ao **Windows XP**, julgue os itens seguintes.

**a)** Juntos, os arquivos associados aos ícones “Reflorestamento” (21KB), e “Orçamento” (630KB), ocupam uma quantidade de memória superior a 650 milhões de bytes.

**b)** Para se excluir os arquivos associados aos ícones “Reflorestamento” e “Orçamento”, sem enviá-los para a Lixeira do Windows XP, é suficiente realizar a seguinte sequência de ações: clicar o ícone “Reflorestamento”, pressionar a tecla “shift” e, mantendo-a pressionada, clicar o ícone “Orçamento”, liberar a tecla “shift”, pressionar e manter a tecla “ctrl”, teclar “X”.

**c)** Para se abrir o Internet Explorer, é suficiente clicar com o botão direito do mouse o ícone “internet explorer”.

**d)** Para abrir o documento associado ao ícone “Reflorestamento” é suficiente realizar a seguinte sequência de ações: clicar o referido ícone; clicar o menu “Arquivo”, ; na lista de opções que aparece em decorrência dessa ação, clicar “Abrir”.

**e)** Para se inserir a planilha associada ao ícone “Orçamento” no documento associado ao ícone “Reflorestamento” é suficiente arrastar o ícone “Orçamento” para a posição sobre o ícone “Reflorestamento” e, em seguida, clicar “Colar”.

Quantas estão certas

- a) 1
- b) 2
- c) 3
- d) 4
- e) 5

24) Qual opção apresenta somente periférico de saída:

- a) Teclado, Impressora, Mouse, Monitor
- b) Web Can, Pen Drive, MP3, Mouse
- c) Impressora, monitor, caixa de som
- d) Impressora Multifuncional, Caixa de Som com USB frontal, Monitor
- e) Scanner, monitor touch screen, Pen Drive


25) Observe na figura a seguir um trecho de uma planilha Excel, versão em Português:


	A	B	C	D
1	1	2	3	=SE(A1>1);SOMA(A1:C2;SOMA(B1:C2))
2	4	5	6	

Se a fórmula mostrada for aplicada á célula D1, o resultado da célula será:

- a)6;
- b)15;
- c)16;
- d)21;
- e>false.

Para as questões de 26 até 30 considera a figura retira do site do IBGE.




26)  **Favoritos** AO clicar no referido ícone o usuário terá:

- a) Adicionado como favorito diretamente
- b) Aberto uma janela onde exibira somente os site salvos como favoritos.
- c) Aberto uma janela onde o usuário poderá escolher entre adicionar como favorito, exibir o histórico e o Feeds
- d) Adicionado o site na pasta do Windows Explorer
- e) Nada, pois esse ícone não pode ser clicado

27) A tecla de atalho CTRL + F que tem a função de localizar na página aberta está no menu:

- a) arquivo
- b) editar
- c) ferramentas
- d) ajuda
- e) exibir

28) Ao clicar em cima do ícone  a página mostrada será encaminhada para fila da impressão caso tenha, Senão será impressa


diretamente. Isso também pode ser feito pela tecla de atalho:

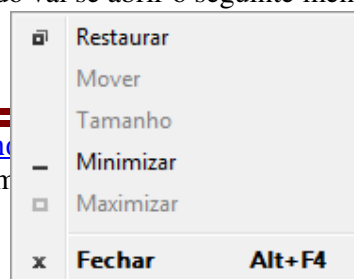
- a) Ctrl + I
- b) Ctrl + P
- c) Alt + O
- d) Ctrl + Alt + P
- e) Alt + P

29) Quais as teclas de atalho referente aos 3 itens que aparece na figura abaixo.



- a) Ctrl + F, F5 e Esc
- b) Esc, F5, e Ctrl + F
- c) F11, F5 e F4
- d) F5, Esc e Ctrl + F
- e) F5, Esc e Ctrl + L

30) Após clicar em cima do ícone  que se encontra na parte superior da janela do lado esquerdo vai se abrir o seguinte menu



Qual o nome dele:

- a) menu de contexto
- b) menu de controle
- c) menu especial
- d) menu do IE
- e) menu suspenso

GABARITO:

1. E – Vai pressionar a tecla WIN (logo tipo do Windows mais a tecla ESC junto. Isso funciona para versão do vista e do XP do Windows
2. D – É o caminho de como chegar na Ferramenta de Sistema passo a passo. Vai apontando o mouse em cima de um por um.
3. E – A memória virtual fica dentro do seu HD e ficar um espaço reservado para seu uso. Com sua máquina muito carregada o sistema operacional começa utilizar a memória virtual para tentar ajuda a memória RAM no seu funcionamento.
4. B – O único barramento de vídeo na resposta é o AGP. Hoje em dia já existe um barramento mais moderno conhecido como PCI-EXPRESS
5. E – Todas estão certas. Só vale lembrar que além do nível L1 e L2 mencionado na questão também temos o nível L3.
6. D – Tecla de atalho que vira e mexe aparece em vários concursos. Também é utilizada no Excel e na internet.
7. C – A formula coincide em tirar a média de 6, 7 e 4 que dá 17 dividido por 3 (média aritmética). Vamos conseguir uma dizima periódica 5,6666.... Ao arredondar para 2 casas decimais o 6 dará lugar ao 7 aproximando assim o numero.
8. A – Pegadinha de prova. O candidato arredondar vai e marca. Mas esquece

da palavra CONTIDO. Por mais que o valor na célula seja EXIBIDO arredondado o valor na célula continuará o mesmo. Basta olha na barra de fórmula acima das colunas.

9. E – Todos os itens são excluídos sem passar pela lixeira.
10. D – Google inventou prova cobrou. Quem não conhece o Google por ir nele fazer uma busca. Hoje ele faz muito mais do que simplesmente busca. Mais foi pela busca que ficou conhecido mundialmente.
11. C – O comando Capítular é um sub comando do menu formatar. Existem dois subtipos de capitular e o usuário ainda pode escolher tamanhos diferentes.
12. E – O “protocolo” RSS é utilizado para atualizar automaticamente sites, portais, blogs e etc...
13. B – A tecla F4 quando pressionada vai alterando as 3 referências que existem, Referência relativa, mista e absoluta.
14. D – Mais um comando do sub menu formatar onde o usuário pode colocar borda no texto ou na pagina.
15. D – Tecla de atalho para recortar CTRL + X, tecla de atalho para colar CTRL + V, tecla de atalho para salvar CTRL + B e tecla de atalho para desfazer CTRL + Z
16. B – O nome correto do ícone e sua função é “mesclar e centralizar” só colocar o mouse em cima dele que vai aparecer.
17. C – Em borá possa se fazer A soma de uma coluna por vez a única alternativa correta na ocasião para dar a soma certa é a C. Não é comum ninguém realizar esse procedimento, mas é muito mais prático.
18. D – Os demais endereços caem na situação que não pode. A termina com 255, B tem zero à esquerda do numero. C tem numero maior que 255. E começa com zero.
19. A – Essa janela é conseguida na guia conexões e no botão “CONFIGURAÇÃO de LAN”

20. D – apenas nomes dos ícones. O usuário consegue apontando o mouse em cima dele que se encontram na barra de ferramentas do Word.
21. D – Um típico caso de cavalo de tróia. Famoso presente de grego. Fala uma coisa mais é outra.
22. C – A vai funcionar a formatação de justificar os parágrafos no caso mostrado. B Para se localizar uma palavra é possível através do menu editar – localizar. C no menu inserir pode colocar numero de pag. ou quebra de pagina. D Erros de ortografia e gramática é por meio do menu ferramentas. E Para se colocar em negrito é CTRL + N
23. A – A para se ocupar 650 milhões de bytes teria que está aparecendo 650MB e não 650 KB. B CTRL + X recorta, para excluir sem enviá-los para lixeira é SHIF + DEL. C Ao clicar com botão direito vai se abrir um menu rápido. Ainda é necessário clicar em mais algum lugar para começa a navegar. D Apesar de ninguém fazer desse modo é certa a opção. Após o ícone selecionado existe o comando abrir no menu arquivo. E Viajou. Não se pode arrastar um arquivo para cima do outro.
24. C - Apesar de todas terem periféricos de saída apenas a C tem só periféricos de saída. Nas demais tem periféricos de saída e entrada.
25. E - Falta um parêntese na fórmula logo após Soma(a1:C2
26. C – A janela apresentada é do IE8. Nela ao se clicar no ícone de favoritos você tem acesso direto aos 3 tópicos mencionados na questão.
27. B – Mais uma questão que o candidato tem que ficar atento aos menus do programa. É a última opção encontrada no menu editar.
28. C – Inovação do IE8. A tecla ALT + O imprime direto, enquanto a tecla CTRL + P abre a caixa de dialogo de imprimir
29. D – Tecla de atalhos de atualizar, parar o carregamento da pagina e localizar.
30. B – É um ícone que quase ninguém clica conhecido como menu de controle. Tem o mesmo comando que se encontram na barra de titulo.